

Практическое занятие 1 Криволинейные интегралы 1-го и 2-го рода

1.1 Определение, свойства, вычисление и приложения криволинейного интеграла 1-го рода

1.2 Определение, свойства, вычисление и приложения криволинейного интеграла 2-го рода

1.1 Определение, свойства, вычисление и приложения криволинейного интеграла 1-го рода

Определение криволинейного интеграла 1-го рода. Пусть функция $f(x; y)$ определена и ограничена в точках $(x; y)$ гладкой или кусочно-гладкой кривой AB , лежащей в плоскости Oxy . Разобьем кривую AB точками $A = M_0 < M_1 < \dots < M_n = B$ на n частичных дуг l_1, l_2, \dots, l_n , длины которых равны $\Delta l_1, \Delta l_2, \dots, \Delta l_n$. Выберем на каждой частичной дуге $l_k, k = 1, 2, \dots, n$ точку $C_k(\xi_k; \eta_k)$ (рисунок 1. 1).

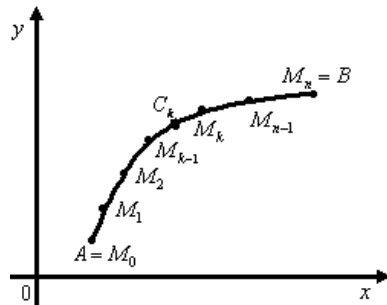


Рисунок 1. 1 – Разбиение кривой AB для определения криволинейного интеграла 1-го рода

Сумма

$$S = \sum_{k=1}^n f(\xi_k; \eta_k) \cdot \Delta l_k \quad (1.1)$$

называется *интегральной суммой* для функции $f(x; y)$, определенной на кривой AB .

Обозначим $\lambda = \max_{1 \leq k \leq n} \Delta l_k$

Криволинейным интегралом первого рода называется предел (если он существует) интегральной суммы (1.1) при $\lambda \rightarrow 0$ и обозначается

$$\int_{AB} f(x; y) dl = \lim_{n \rightarrow \infty} \sum_{k=1}^n f(\xi_k; \eta_k) \Delta l_k .$$

Подынтегральная функция $f(x; y)$ называется *интегрируемой* вдоль кривой AB , сама кривая AB – *контуром интегрирования*, A и B – *начальной* и *конечной* точками интегрирования, dl – дифференциал дуги.

Теорема 1 (существование криволинейного интеграла 1-го рода) Если функция $f(x; y)$ непрерывна в каждой точке гладкой кривой AB , то криволинейный интеграл $\int_{AB} f(x; y) dl$ существует, и его величина не зависит от способа разбиения кривой на части и выбора точек на них.

Свойства криволинейного интеграла 1-го рода. Криволинейный интеграл 1-го рода обладает следующими свойствами:

– $\int_{AB} dl = L$, где L – длина кривой AB ;

– (*линейность*) если α и β – произвольные постоянные числа, функции $f(x; y)$ и $g(x; y)$ интегрируемы на кривой AB , то функция $\alpha \cdot f(x; y) + \beta \cdot g(x; y)$ тоже интегрируема на кривой AB и справедливо равенство:

$$\int_{AB} (\alpha f(x; y) + \beta g(x; y)) dl = \alpha \int_{AB} f(x; y) dl + \beta \int_{AB} g(x; y) dl ;$$

– (*аддитивность*) если кривая AB состоит из двух частей AC и CB , $AB = AC \cup CB$, имеющих одну общую точку, на каждой из которых $f(x; y)$ интегрируема, то функция $f(x; y)$ также интегрируема на кривой AB и справедлива формула:

$$\int_{AB} f(x; y) dl = \int_{AC} f(x; y) dl + \int_{CB} f(x; y) dl ;$$

– (оценка интеграла) если на кривой AB имеет место неравенство $|f(x; y)| \leq M$, то

$$\left| \int_{AB} f(x; y) dl \right| \leq M \cdot L,$$

где L – длина кривой AB ;

– (монотонность) если для точек кривой AB выполнено неравенство $f(x; y) \geq g(x; y)$, то

$$\int_{AB} f(x; y) dl \geq \int_{AB} g(x; y) dl;$$

– криволинейный интеграл 1-го рода не зависит от направления обхода кривой AB :

$$\int_{AB} f(x; y) dl = \int_{BA} f(x; y) dl.$$

Вычисление криволинейного интеграла 1-го рода. Вычисление криволинейного интеграла 1-го рода сводится к вычислению определенного интеграла.

Параметрическое представление кривой интегрирования. Пусть кривая AB задана параметрическими уравнениями

$$x = x(t), \quad y = y(t), \quad t \in [\alpha, \beta],$$

где $x(t)$ и $y(t)$ – непрерывно дифференцируемые функции параметра t , причём точке A соответствует $t = \alpha$, точке B – значение $t = \beta$, $x'^2(t) + y'^2(t) \neq 0$.

Тогда дифференциал длины дуги равен:

$$dl = \sqrt{(x'(t))^2 + (y'(t))^2} dt$$

и криволинейный интеграл 1-го рода вычисляется по формуле:

$$\int_{AB} f(x; y) dl = \int_{\alpha}^{\beta} f(x(t); y(t)) \cdot \sqrt{x'^2(t) + y'^2(t)} dt. \quad (1.2)$$

Полярное представление кривой интегрирования. Пусть кривая AB задана в полярных координатах уравнением

$$r = r(\varphi), \quad \alpha \leq \varphi \leq \beta,$$

и $r(\varphi)$ имеет непрерывную производную $r'(\varphi)$ на $[\alpha; \beta]$.

Тогда дифференциал дуги равен $dl = \sqrt{r^2 + (r')^2} d\varphi$ и криволинейный интеграл 1-го рода вычисляется по формуле:

$$\int_{AB} f(x; y) dl = \int_{\alpha}^{\beta} f(r(\varphi) \cos \varphi; r(\varphi) \sin \varphi) \cdot \sqrt{r^2(\varphi) + r'^2(\varphi)} d\varphi. \quad (1.3)$$

Явное представление кривой интегрирования. Пусть кривая AB задана уравнением $y = y(x)$, $a \leq x \leq b$, и $y(x)$ имеет непрерывную производную $y'(x)$ на отрезке $[a; b]$.

Дифференциал дуги имеет вид $dl = \sqrt{1 + y'^2(x)} dx$ и справедливо равенство

$$\int_{AB} f(x; y) dl = \int_a^b f(x; y(x)) \cdot \sqrt{1 + y'^2(x)} dx. \quad (1.4)$$

Аналогично определяется криволинейный интеграл 1-го рода для функции 3-х переменных по пространственной кривой AB :

$$\int_{AB} f(x; y; z) dl.$$

Для вычисления криволинейного интеграла 1-го рода от функции $f(x; y; z)$ по пространственной кривой AB , заданной параметрическими уравнениями $x = x(t)$, $y = y(t)$, $z = z(t)$, $t \in [\alpha, \beta]$, справедлива формула:

$$\int_{AB} f(x; y; z) dl = \int_{\alpha}^{\beta} f(x(t); y(t); z(t)) \cdot \sqrt{x'^2(t) + y'^2(t) + z'^2(t)} dt. \quad (1.5)$$

Приложения криволинейного интеграла 1-го рода. Криволинейный интеграл 1-го рода используется для вычисления:

– длины кривой

$$L = \int_{AB} dl; \quad (1.6)$$

– площади цилиндрической поверхности, направляющей которой служит кривая AB , лежащая в плоскости Oxy , и образующая параллельна оси Oz

$$S = \int_{AB} f(x; y) dl; \quad (1.7)$$

– массы материальной кривой AB с плотностью $\rho(x; y)$

$$m = \int_{AB} \rho(x; y) dl; \quad (1.8)$$

– статических моментов и координат центра тяжести материальной кривой AB с плотностью $\rho(x; y)$ относительно осей Ox и Oy

$$M_x = \int_{AB} y \rho(x; y) dl, \quad M_y = \int_{AB} x \rho(x; y) dl; \quad (1.9)$$

$$x_0 = \frac{M_y}{m}, \quad y_0 = \frac{M_x}{m};$$

– моментов инерции материальной кривой AB с плотностью $\rho(x; y)$ относительно осей Ox и Oy , а также начала координат $O(0;0)$ соответственно:

$$I_x = \int_{AB} y^2 \rho(x; y) dl, \quad I_y = \int_{AB} x^2 \rho(x; y) dl, \quad I_0 = I_x + I_y. \quad (1.10)$$

1.2 Определение, свойства, вычисление и приложения криволинейного интеграла 2-го рода

Определение криволинейного интеграла 2 го рода. Пусть в плоскости Oxy задана непрерывная кривая AB . И пусть функции $P(x; y)$ и $Q(x; y)$ определены в каждой точке кривой AB . Разобьем дугу AB точками $A = M_0 < M_1 < \dots < M_n = B$ в направлении от точки A к точке B на n частичных дуг l_1, l_2, \dots, l_n , длины которых равны $\Delta l_1, \Delta l_2, \dots, \Delta l_n$. Выберем на каждой частичной дуге $l_k = \overline{M_{k-1}M_k}$, $k = 1, 2, \dots, n$, точку $C_k(\xi_k; \eta_k)$. Проекциями дуги $l_k = \overline{M_{k-1}M_k}$ на оси Ox и Oy являются Δx_k и Δy_k (рисунок 1. 2).

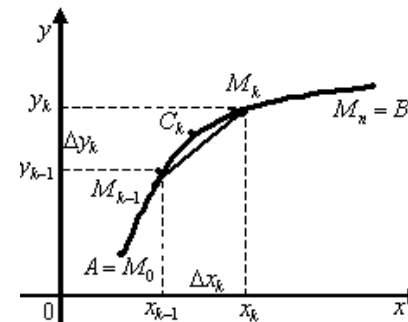


Рисунок 1. 2 – Разбиение кривой AB для определения криволинейного интеграла 2-го рода

Сумма

$$\sum_{k=1}^n P(\xi_k; \eta_k) \cdot \Delta x_k \quad (1.11)$$

называется *интегральной суммой по переменной x* для функции $P(x; y)$; сумма

$$\sum_{i=1}^n Q(\xi_k; \eta_k) \cdot \Delta y_k \quad (1.12)$$

называется *интегральной суммой по переменной y* для функции $Q(x; y)$.

Обозначим $\lambda = \max_{1 \leq k \leq n} \Delta l_k$.

Криволинейным интегралом по координате x по кривой AB от функции $P(x; y)$ называется предел (если он существует) интегральной суммы (1.11) при $\lambda \rightarrow 0$:

$$\int_{AB} P(x; y) dx = \lim_{\lambda \rightarrow 0} \sum_{k=1}^n P(\xi_k; \eta_k) \Delta x_k. \quad (1.13)$$

Криволинейным интегралом по координате y по кривой AB от функции $Q(x; y)$ называется предел (если он существует) интегральной суммы (1.2) при $\lambda \rightarrow 0$:

$$\int_{AB} Q(x; y) dy = \lim_{\lambda \rightarrow 0} \sum_{k=1}^n Q(\xi_k; \eta_k) \Delta y_k. \quad (1.14)$$

Криволинейным интегралом 2-го рода по кривой AB от функций $P(x; y)$ и $Q(x; y)$ называется предел (если он существует) при $\lambda \rightarrow 0$ интегральной суммы

$$\sum_{i=1}^n P(\xi_k; \eta_k) \Delta x_k + Q(\xi_k; \eta_k) \Delta y_k,$$

и обозначается

$$\int_{AB} P(x; y) dx + Q(x; y) dy = \lim_{\lambda \rightarrow 0} \sum_{i=1}^n P(\xi_i; \eta_i) \Delta x_i + Q(\xi_i; \eta_i) \Delta y_i. \quad (1.15)$$

Криволинейный интеграл 2-го рода можно записать в виде

$$\int_{AB} P(x; y) dx + Q(x; y) dy = \int_{AB} P(x; y) dx + \int_{AB} Q(x; y) dy.$$

Теорема 2 (существование криволинейного интеграла 2-го рода) Если кривая AB гладкая, а функции $P(x; y)$ и $Q(x; y)$ непрерывны на кривой AB , то криволинейный интеграл 2-го рода существует.

Пусть AB – замкнутая кривая, т. е. точка A совпадает с точкой B . Тогда для нее можно определить два направления обхода от точки A к точке B . Направление обхода замкнутой кривой называется *положительным*, если область, лежащая внутри этого контура остается слева по отношению к точке, совершающей обход (рисунок 1.3, а). Противоположное направление называется *отрицательным* (рисунок 1.3, б).



Рисунок 1.3 – Положительно (а) и отрицательно (б) ориентированный контур

Интеграл по замкнутому контуру Γ в положительном направлении обозначается как

$$\oint_{\Gamma} P(x; y) dx + Q(x; y) dy. \quad (1.16)$$

Свойства криволинейного интеграла 2-го рода. Криволинейный интеграл 2-го рода обладает следующими свойствами:

– (*линейность*) если α и β – произвольные постоянные числа, функции $P_1(x; y)$ и $P_2(x; y)$ интегрируемы на кривой AB по переменной x , то функция $\alpha \cdot P_1(x; y) + \beta \cdot P_2(x; y)$ также интегрируема на дуге AB по переменной x и справедливо равенство

$$\int_{AB} (\alpha P_1(x; y) + \beta P_2(x; y)) dx = \alpha \int_{AB} P_1(x; y) dx + \beta \int_{AB} P_2(x; y) dx.$$

Аналогично по переменной y ;

– (*аддитивность*) если дуга AB состоит из двух частей AC и CB , $AB = AC \cup CB$, имеющих одну общую точку, на каждой из которых $P(x; y)$ и $Q(x; y)$ интегрируемы, то функции $P(x; y)$ и $Q(x; y)$ также интегрируемы на дуге AB и справедлива формула:

$$\begin{aligned} \int_{AB} P(x; y) dx + Q(x; y) dy &= \\ &= \int_{AC} P(x; y) dx + Q(x; y) dy + \int_{CB} P(x; y) dx + Q(x; y) dy; \end{aligned}$$

– (*ориентированность*) при изменении направления пути интегрирования криволинейный интеграл 2-го рода изменяет свой знак на противоположный:

$$\int_{AB} P(x; y) dx + Q(x; y) dy = - \int_{BA} P(x; y) dx + Q(x; y) dy;$$

– если кривая AB лежит в плоскости, перпендикулярной оси Ox , то $\int_{AB} P(x; y) dx = 0$; если кривая AB лежит в плоскости, перпендикулярной оси Oy , то $\int_{AB} Q(x; y) dy = 0$;

– интеграл по замкнутому контуру не зависит от выбора начальной точки, а зависит только от направления обхода кривой.

Вычисление криволинейного интеграла 2-го рода. Вычисление криволинейного интеграла 2-го рода сводится к вычислению определенного интеграла.

Параметрическое представление кривой интегрирования. Пусть кривая AB задана параметрическими уравнениями

$$x = x(t), \quad y = y(t), \quad t \in [\alpha, \beta],$$

где $x(t)$ и $y(t)$ – непрерывно дифференцируемые функции параметра t , причём точке A соответствует $t = \alpha$, точке B – значение $t = \beta$, $x'^2(t) + y'^2(t) \neq 0$. И пусть функции $P(x; y)$ и $Q(x; y)$ непрерывны на кривой AB . Тогда криволинейный интеграл 2-го рода вычисляется по формуле:

$$\int_{AB} P dx + Q dy = \int_{\alpha}^{\beta} [P \cdot x'(t) + Q \cdot y'(t)] dt. \quad (1.17)$$

Явное представление кривой интегрирования. Пусть кривая AB задана уравнением $y = y(x)$, $x \in [a; b]$, где функции $y(x)$ и $y'(x)$ непрерывны на отрезке $[a; b]$. Тогда криволинейный интеграл 2-го рода вычисляется по формуле:

$$\int_{AB} P dx + Q dy = \int_a^b [P(x; y(x)) + Q(x; y(x)) y'(x)] dx. \quad (1.18)$$

Теорема 3 (связь между криволинейными интегралами 1-го и 2-го рода) Пусть

1) кусочно-гладкая кривая AB , лежит в плоскости Oxy и задана уравнениями $x = x(t)$, $y = y(t)$, где $x(t)$ и $y(t)$ непрерывно дифференцируемые функции на отрезке $[\alpha; \beta]$, $x'^2(t) + y'^2(t) \neq 0$, причём $A(x(\alpha); y(\alpha))$, $B(x(\beta); y(\beta))$;

2) функции $P(x; y)$ и $Q(x; y)$ кусочно-непрерывны вдоль кривой AB ;

3) вектор $\vec{\tau} = (\cos \alpha; \cos \beta)$, единичный касательный вектор к кривой AB в точке $M(x; y)$, где α и β углы, составляемые с осями координат (рисунок 1. 5).

Тогда имеет место равенство:

$$\int_{AB} P dx + Q dy = \int_{AB} (P \cos \alpha + Q \cos \beta) dl. \quad (1.19)$$

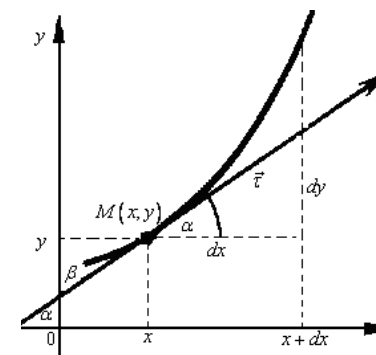


Рисунок 1. 4 – Связь криволинейных интегралов 1-го и 2-го рода

Для пространственной кривой, заданной параметрическими уравнениями

$$x = x(t), \quad y = y(t), \quad z = z(t),$$

где $x(t)$, $y(t)$ и $z(t)$ непрерывно дифференцируемые функции на отрезке $[\alpha; \beta]$, $x'^2(t) + y'^2(t) + z'^2(t) \neq 0$, $A(x(\alpha); y(\alpha); z(\alpha))$, $B(x(\beta); y(\beta); z(\beta))$, криволинейный интеграл 2-го рода вводится аналогично плоскому случаю:

$$\int_{AB} P(x; y; z) dx + Q(x; y; z) dy + R(x; y; z) dz. \quad (1.20)$$

При этом формула, выражающая связь между криволинейными интегралами 1-го и 2-го рода имеет вид:

$$\int_{AB} P dx + Q dy + R dz = \int_{AB} (P \cos \alpha + Q \cos \beta + R \cos \gamma) dl, \quad (1.21)$$

где $\vec{\tau} = (\cos \alpha; \cos \beta; \cos \gamma)$, единичный касательный вектор к кривой AB в точке $M(x; y; z)$, α , β , γ углы, составляемые $\vec{\tau}$ с положительными направлениями осей координат, причём направление вектора $\vec{\tau}$ соответствует направлению движения от точки A к точке B .

Приложения криволинейного интеграла 2-го рода. Криволинейный интеграл 2-го рода используется для вычисления:

– работы силы \vec{F} по перемещению материальной точки вдоль кривой AB от точки A до точки B :

$$A = \int_{AB} P(x; y; z)dx + Q(x; y; z)dy + R(x; y; z)dz, \quad (1.22)$$

где $P(x; y; z)$ и $Q(x; y; z)$, $R(x; y; z)$ проекции силы \vec{F} на координатные оси Ox , Oy , Oz соответственно;

– площади плоской фигуры, ограниченной замкнутым контуром Γ :

$$S = \oint_{\Gamma} xdy, \quad S = -\oint_{\Gamma} ydx, \quad S = \frac{1}{2} \oint_{\Gamma} xdy - ydx. \quad (1.23)$$

Вопросы для самоконтроля

1 Что называется интегральной суммой для функции $f(x; y)$, определенной на кривой AB ?

2 Дайте определение криволинейного интеграла 1-го рода.

3 Перечислите свойства криволинейного интеграла 1-го рода.

4 Что общего и какие различия между свойствами криволинейного интеграла 1-го рода и определенного интеграла?

5 Как вычисляется криволинейный интеграл 1-го рода в следующих случаях задания плоской кривой: а) в параметрическом виде; б) в полярных координатах; в) в явном виде?

6 Перечислите геометрические и физические приложения криволинейного интеграла 1-го рода?

7 Сформулируйте определения:

а) интегральных сумм для криволинейного интеграла 2-го рода;

б) криволинейного интеграла 2-го рода.

8 Перечислите основные свойства криволинейного интеграла 2-го рода.

9 Как вычисляется криволинейный интеграл 2-го рода в случаях: а) параметрического задания; б) явного задания кривой интегрирования?

10 Сформулируйте теорему, выражающую связь между криволинейными интегралами 1 и 2-го рода.

Решение типовых примеров

1 Вычислить интеграл $\int_{AB} y^2 dl$, где

$$AB = \left\{ (x; y) \mid x = a \cos t, y = a \sin t, 0 \leq t \leq \frac{\pi}{2} \right\}.$$

Решение. Подставляя вместо x и y их параметрические представления, имеем:

$$y^2 = a^2 \sin^2 t, \\ dl = \sqrt{(-a \sin t)^2 + (a \cos t)^2} = a dt.$$

Тогда по формуле (1.2) получим:

$$\int_{AB} y^2 dl = \int_0^{\frac{\pi}{2}} a^3 \sin^2 t dt = \frac{a^3}{2} \int_0^{\frac{\pi}{2}} (1 - \cos 2t) dt = \frac{a^3}{2} \left(t - \frac{\sin 2t}{2} \right) \Big|_0^{\frac{\pi}{2}} = \frac{a^3 \pi}{4}.$$

2 Вычислить интеграл $\int_{AB} (x + y) dl$, где

$$AB = \left\{ (x; y) \mid x = r \cos \varphi, y = r \sin \varphi, r = \sqrt{\sin 2\varphi}, 0 \leq \varphi \leq \frac{\pi}{2} \right\}.$$

Решение. Подставляя вместо x и y их представления в полярных координатах, имеем:

$$dl = \sqrt{\sin 2\varphi + \frac{\cos^2 2\varphi}{\sin 2\varphi}} d\varphi = \frac{d\varphi}{\sqrt{\sin 2\varphi}} = \frac{d\varphi}{r}.$$

Тогда по формуле (1.3) получим

$$\int_{AB} (x + y) dl = \int_0^{\frac{\pi}{2}} (r \sin \varphi + r \cos \varphi) \frac{d\varphi}{r} = \int_0^{\frac{\pi}{2}} (\sin \varphi + \cos \varphi) d\varphi = 2.$$

3 Вычислить интеграл $\int_{AB} y dl$, где

$$AB = \left\{ (x; y) \mid y^2 = 2x \text{ от точки } O(0; 0) \text{ до точки } M(2; 2) \right\}.$$

Решение. Имеем:

$$y = \sqrt{2x}, \quad y' = \frac{1}{\sqrt{2x}}, \quad dl = \sqrt{1 + \frac{1}{2x}} dx.$$

Тогда по формуле (1.4) получим:

$$\begin{aligned} \int_{AB} y dl &= \int_0^2 \sqrt{2x} \cdot \sqrt{1 + \frac{1}{2x}} dx = \int_0^2 \sqrt{2x+1} dx = \frac{1}{3} (2x+1)^{\frac{3}{2}} \Big|_0^2 = \\ &= \frac{1}{3} (5\sqrt{5} - 1). \end{aligned}$$

4 Вычислить интеграл $\int_{AB} x dx + xy dy$, где

$$AB = \left\{ (x; y) \mid x^2 + y^2 = 1, x \geq 0, y \geq 0 \right\}.$$

Решение. Перейдем к параметрическому заданию окружности:

$$\begin{cases} x = r \cos t, \\ y = r \sin t, \end{cases}$$

где $r = 1$ и $0 \leq t \leq \frac{\pi}{2}$. Точке A соответствует значение параметра

$t = 0$, а точке B – значение $t = \frac{\pi}{2}$. Тогда $x'(t) = -\sin t$ и

$y'(t) = \cos t$. Подставим в формулу (1.2)

$$\begin{aligned} \int_{AB} x dx + xy dy &= \int_0^{\frac{\pi}{2}} [-\cos t \cdot \sin t + \cos t \cdot \sin t \cdot \cos t] dt = \\ &= -\int_0^{\frac{\pi}{2}} \cos t \sin t dt + \int_0^{\frac{\pi}{2}} \cos^2 t \sin t dt = \frac{\cos^2 t}{2} \Big|_0^{\frac{\pi}{2}} - \frac{\cos^3 t}{3} \Big|_0^{\frac{\pi}{2}} = \\ &= -\frac{1}{2} + \frac{1}{3} = -\frac{1}{6}. \end{aligned}$$

5 Вычислить интеграл $\int_{AB} (x^2 + y) dx + xy dy$, где (рисунок 1. 6)

а) $AB = \left\{ (x; y) \mid y = x, 0 \leq x \leq 1 \right\}$,

б) $AB = \left\{ (x; y) \mid y = x^2, 0 \leq x \leq 1 \right\}$,

в) $AB = \left\{ (x; y) \mid \begin{array}{l} \text{ломаная, проходящая} \\ \text{через точки } A(0;0), C(1;0), B(1;1) \end{array} \right\}$.

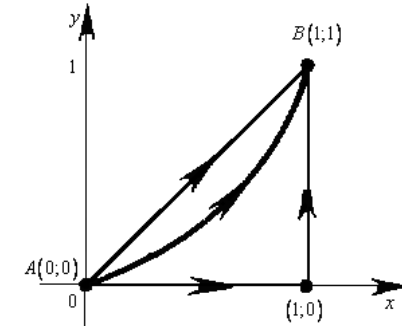


Рисунок 1. 5 – Различные кривые AB

Решение. а) по формуле (1.18) имеем:

$$\begin{aligned} \int_{AB} (x^2 + y) dx + xy dy &= \int_0^1 \left[\begin{array}{l} y = x, \\ y' = 1, \\ 0 \leq x \leq 1. \end{array} \right] = \int_0^1 (x^2 + x + x \cdot x \cdot 1) dx = \\ &= \int_0^1 (2x^2 + x) dx = \left(\frac{2}{3} x^3 + \frac{1}{2} x^2 \right) \Big|_0^1 = \frac{2}{3} + \frac{1}{2} = \frac{7}{6}; \end{aligned}$$

$$\begin{aligned} \text{б) } \int_{AB} (x^2 + y) dx + xy dy &= \int_0^1 \left[\begin{array}{l} y = x^2, \\ y' = 2x, \\ 0 \leq x \leq 1. \end{array} \right] = \int_0^1 (x^2 + x^2 + x^2 \cdot x \cdot 2x) dx = \\ &= \int_0^1 (2x^2 + 2x^4) dx = \left(\frac{2}{3} x^3 + \frac{2}{5} x^5 \right) \Big|_0^1 = \frac{2}{3} + \frac{2}{5} = \frac{16}{15}; \end{aligned}$$

в) используя свойство аддитивности криволинейного интеграла, имеем:

$$\int_{AB} (x^2 + y) dx + xy dy = \int_{AC} (x^2 + y) dx + xy dy + \int_{CB} (x^2 + y) dx + xy dy =$$

$$= \left[\begin{array}{l} AC: y=0, 0 \leq x \leq 1, \\ CB: x=1, 0 \leq y \leq 1. \end{array} \right] = \int_0^1 (x^2 + 0) dx + \int_0^1 (1+y) \cdot 0 + 1 \cdot y dy = \\ = \frac{x^3}{3} \Big|_0^1 + \frac{y^2}{2} \Big|_0^1 = \frac{1}{3} + \frac{1}{2} = \frac{5}{6}.$$

6 Найти массу материальной дуги линии $y = x^2 + 1$ между точками $A(0;1)$ и $B(1;2)$, если линейная плотность в каждой точке $M(x; y)$ пропорциональна абсциссе этой точки

Решение. Выражение для плотности имеет вид $\rho(x; y) = kx$, где k – коэффициент пропорциональности. Тогда по формуле (1.8) находим

$$m = \int_{AB} \rho(x; y) dl = k \int_0^1 x \sqrt{1+4x^2} dx = \frac{k}{8} \int_0^1 x \sqrt{1+4x^2} d(1+4x^2) = \\ = \frac{k}{8} \frac{(1+4x^2)^{\frac{3}{2}}}{\frac{3}{2}} \Big|_0^1 = \frac{k}{12} (5\sqrt{5} - 1).$$

7 Вычислить длину дуги линии $x = t$, $y = \frac{\sqrt{2}}{2}t^2$, $z = \frac{1}{3}t^3$ при $0 \leq t \leq 1$.

Решение. Имеем $x'_t = 1$, $y'_t = \sqrt{2}t$, $z'_t = t^2$.

Тогда

$$dl = \sqrt{x_t'^2 + y_t'^2 + z_t'^2} = \sqrt{1 + 2t^2 + t^4} dt = (1 + t^2) dt.$$

Значит, по формуле (1.6) длина дуги равна

$$L = \int_{AB} dl = \int_0^1 (1 + t^2) dt = \left(t + \frac{t^3}{3} \right) \Big|_0^1 = \frac{4}{3}.$$

8 Найти работу, производимую силой $\vec{F} = 4x^6 \vec{i} + xy \vec{j}$ вдоль дуги кривой $y = x^3$ от точки $A(0;0)$ и $B(1;1)$.

Решение. По условию $P(x; y) = 4x^6$, $Q(x; y) = xy$. Подставляя в формулу (1.22) для вычисления работы, получим

$$A = \int_{AB} 4x^6 dx + xy dy = \int_0^1 4x^6 dx + x \cdot x^3 \cdot 3x^2 dx = 7 \int_0^1 x^6 = x^7 \Big|_0^1 = 1.$$

9 Вычислить площадь, ограниченную эллипсом $\frac{x^2}{a^2} + \frac{y^2}{b^2} = 1$.

Решение. Параметрические уравнения эллипса имеют вид $x = a \cos t$, $y = b \sin t$, $0 \leq t \leq 2\pi$.

Отсюда $dx = -a \sin t dt$, $dy = b \cos t dt$.

Тогда по формуле (1.23) искомая площадь равна

$$S = \frac{1}{2} \oint_L x dy - y dx = \frac{1}{2} \int_0^{2\pi} ab \cos^2 t + ab \sin^2 t dt = \\ = \frac{1}{2} ab \int_0^{2\pi} (\cos^2 t + \sin^2 t) dt = \pi ab.$$

Задания для аудиторной работы

1 Вычислить криволинейные интегралы 1-го рода:

- а) $\int_{\Gamma} y dl$, где Γ – отрезок прямой $y = x$ между точками $A(0;0)$ и $B(1;1)$;
- б) $\int_{\Gamma} \frac{x^3}{y^2} dl$, где Γ – дуга линии $xy = 1$ между точками $A(1;1)$ и $B(2; \frac{1}{2})$;
- в) $\int_{\Gamma} y^2 dl$, где Γ – дуга линии $x = \ln y$ между точками $A(0;1)$ и $B(1;e)$;
- г) $\int_{\Gamma} \frac{\sin^3 x}{\sqrt{1 + \sin^2 x}} dl$, где Γ – дуга линии $y = \cos x$, $0 \leq x \leq \frac{\pi}{2}$;
- д) $\int_{\Gamma} \sin^4 x \cos x dl$, где Γ – дуга линии $y = \ln \sin x$, $\frac{\pi}{4} \leq x \leq \frac{\pi}{3}$;

е) $\int_{\Gamma} \sqrt{x^2 + y^2} dl$, где Γ – верхняя половина кардиоиды $r = 2(1 + \cos \varphi)$;

ж) $\int_{\Gamma} x^2 y dl$, где Γ – дуга астроида $x = 4 \cos^3 t$, $y = 4 \sin^3 t$, $0 \leq t \leq \frac{\pi}{2}$.

2 Вычислить криволинейные интегралы 2-го рода по данной линии в указанном направлении:

а) $\int_{\Gamma} \sin^3 x dx + \frac{dy}{y^2}$, где Γ – дуга линии $y = \operatorname{ctg} x$, $0 \leq x \leq \frac{\pi}{3}$;

б) $\int_{\Gamma} (x^3 - y^2) dx + xy dy$, где Γ – дуга линии $y = 2^x$ между точками $A(0;1)$ и $B(1;2)$;

в) $\int_{\Gamma} \sqrt{x^2 + 3y} dy + (x - y) dx$, где Γ – дуга линии $y = x^2$ от точки $A(0;0)$ до $B(1;1)$;

г) $\int_{\Gamma} y^2 dx + xy dy$, где Γ – дуга эллипса $x = 2 \cos t$, $y = \sin t$, $0 \leq t \leq \frac{\pi}{2}$;

д) $\int_{\Gamma} y dx - x dy$, где Γ – дуга астроида $x = 2 \cos^3 t$, $y = 2 \sin^3 t$, $0 \leq t \leq \frac{\pi}{2}$;

е) $\int_{\Gamma} y^2 dx + x^2 dy$, где Γ – первая арка циклоиды $x = 3(t - \sin t)$, $y = 3(1 - \cos t)$, $0 \leq t \leq 2\pi$;

ж) вычислить $\int_{\Gamma} (y + z) dx + (x + z) dy + (x + y) dz$, Γ : $x = t^2$, $y = t^4$, $z = t^6$, $0 \leq t \leq 1$;

и) вычислить $\int_{\Gamma} zy dx + zx dy + xy dz$, Γ – дуга винтовой линии

$x = R \cos t$, $y = R \sin t$, $z = \frac{3t}{2\pi}$ от точки пересечения с плоскостью $z = 0$ до точки пересечения с плоскостью $z = 3$.

3 Вычислить длину дуги кривых:

а) $x = t$, $y = \sqrt{2} \ln t$, $z = \frac{1}{t}$, $1 \leq t \leq 10$;

б) $x = 6 \cos t$, $y = 6 \sin t$, $z = 8t$, $0 \leq t \leq 2\pi$.

4 Вычислить площадь фигуры, ограниченной замкнутым контуром, образованным указанными линиями:

а) первой аркой циклоиды $x = 2(t - \sin t)$, $y = 2(1 - \cos t)$, $0 \leq t \leq 2\pi$;

б) лемнискатой Бернулли $(x^2 + y^2)^2 = 2(x^2 - y^2)$.

5 Найти массу материальной кривой с заданной плотностью:

а) $4y = x^4$, $0 \leq x \leq 1$, $\rho(x, y) = x^5 + 8xy$;

б) $(x^2 + y^2)^2 = 8(x^2 - y^2)$, $\rho(x, y) = x + y$.

6 Найти массу дуги кривой $x = t$, $y = \frac{3t^2}{\sqrt{2}}$, $z = t^3$, $0 \leq t \leq 1$, если линейная плотность $\rho(x, y, z) = x + z$.

7 Найти работу, производимую силой $\vec{F} = X\vec{i} + Y\vec{j}$ вдоль указанной линии:

а) $\vec{F} = x^2\vec{i} + xy^2\vec{j}$, L – отрезок между точками $A(0;1)$ и $B(1;2)$;

б) $\vec{F} = (x^3 + y)\vec{i} + (x + y^3)\vec{j}$, L – ломаная ABC, где $A(1;1)$ и $B(3;1)$, $C(3;5)$;

в) $\vec{F} = x^2\vec{i} + \frac{1}{y^2}\vec{j}$, L – дуга линии $xy = 1$ от $A(1;1)$ и $B(4; \frac{1}{4})$;

г) $\vec{F} = y\vec{i} + x\vec{j}$, L – дуга астроида $x = a \cos^3 t$, $y = b \sin^3 t$,
 $0 \leq t \leq \frac{\pi}{4}$;

д) найти работу A переменной силы

$$F = (2 + xy^2)\vec{i} + (x^2y - 3)\vec{j}$$

вдоль эллипса $\frac{x^2}{4} + \frac{y^2}{9} = 1$ от точки $B(-2,0)$ до точки $C(2,0)$.

Задания для домашней работы

1 Вычислить криволинейные интегралы 1-го рода:

а) $\int_{\Gamma} x dl$, где Γ – дуга линии $2y = x^2$ между точками $A(\sqrt{2};1)$
 и $B(1; \frac{1}{2})$;

б) $\int_{\Gamma} \sqrt{1+x^6} dl$, где Γ – дуга линии $4y = x^4$ между точками
 $A(0;0)$ и $B(1; \frac{1}{4})$;

в) $\int_{\Gamma} \frac{\cos^2 x}{\sqrt{1+\cos^2 x}} dl$, где Γ – дуга линии $y = \sin x$, $0 \leq x \leq \pi$;

г) $\int_{\Gamma} \sqrt{1+\cos^4 x} dl$, где Γ – дуга линии $y = \operatorname{tg} x$, $0 \leq x \leq \frac{\pi}{4}$;

д) $\int_{\Gamma} \sin^2 x \cos^3 x dl$, где Γ – дуга линии $y = \ln \cos x$, $0 \leq x \leq \frac{\pi}{4}$;

е) $\int_{\Gamma} \sqrt{x^2 + y^2 + 4} dl$, где Γ – дуга спирали Архимеда $r = 2\varphi$,

между точками $A(0;0)$ и $B(4;2)$;

ж) $\int_{\Gamma} xy^2 dl$, где Γ – дуга окружности $x = 3 \cos t$, $y = 3 \sin t$,
 $0 \leq t \leq \frac{\pi}{2}$.

2 Вычислить криволинейные интегралы 2-го рода по кривой в
 указанном направлении:

а) $\int_{\Gamma} \sin^2 x + y^2 dy$, где Γ – дуга линии $y = \cos x$, $0 \leq x \leq \pi$;

б) $\int_{\Gamma} \frac{x dx + y dy}{x^3 + y^3}$, где Γ – отрезок от точки $A(1;1)$ до $B(2;2)$;

в) $\int_{\Gamma} \cos^2 x dx + \frac{dy}{y^3}$, где Γ – дуга линии $y = \operatorname{tg} x$, $\frac{\pi}{4} \leq x \leq \frac{\pi}{3}$;

г) $\int_{\Gamma} (x^2 + y^2) dx + xy dy$, где Γ – дуга линии $y = e^x$ между точ-
 ками $A(0;1)$ и $B(1;e)$;

д) $\int_{\Gamma} xy dx + y^2 dy$, где Γ – дуга кривой $x = t^2$, $y = t$, $1 \leq t \leq 2$

е) $\int_{\Gamma} x^2 y dx + y^2 x dy$, где Γ – дуга кривой $x = t$, $y = t^3$, $1 \leq t \leq 14$

ж) $\int_{\Gamma} (x+y) dx + (x-y) dy$, где Γ – дуга окружности $x = 4 \cos t$,
 $y = 4 \sin t$, $0 \leq t \leq \frac{\pi}{2}$;

и) $\int_{\Gamma} 2xy dx + y^2 dy + z^2 dz$, Γ – дуга одного витка винтовой ли-
 нии $x = \cos t$, $y = \sin t$, $z = 2t$ от точки $A(1,0,0)$ до точки
 $B(1,0,4\pi)$.

3 Вычислить длины дуг пространственных кривых:

а) $x = \frac{2}{3}t^3$, $y = t^2$, $z = t$, $0 \leq t \leq 3$;

б) $x = \operatorname{ch} t$, $y = \operatorname{sh} t$, $z = t$, $0 \leq t \leq 1$.

4 Вычислить площади фигур, ограниченных замкнутыми
 контурами, образованными указанными линиями:

а) $y = x^4$, $y^4 = x$;

б) $x = 2 \cos^3 t$, $y = 2 \sin^3 t$, $0 \leq t \leq 2\pi$ (астроида).

5 Найти массы материальных дуг линий при заданной плот-
 ности:

а) $y = x^3, 0 \leq x \leq 1, \rho(x, y) = y;$

б) $x = 5(t - \sin t), y = 5(1 - \cos t), 0 \leq t \leq 2\pi, \rho(x, y) = x;$

в) $x = t \cos t, y = t \sin t, z = t, 0 \leq t \leq 2\pi;$

$$\rho(x, y, z) = 2z - \sqrt{x^2 + y^2}.$$

6 Найти работу, производимую силой $\vec{F} = X\vec{i} + Y\vec{j}$ вдоль кривой:

а) $\vec{F} = x^2\vec{i} + x^2\vec{j}, \Gamma$ – дуга линии $y = x^2$ от $A(1;1)$ и $B(3;9)$;

б) $\vec{F} = \cos^3 x\vec{i} + y\vec{j}, \Gamma$ – дуга линии $y = \sin x$ $0 \leq t \leq \frac{\pi}{2}$;

в) $\vec{F} = \cos^2 x\vec{i} + \frac{1}{y^3}\vec{j}, \Gamma$ – дуга линии $y = \operatorname{tg} x$ $\frac{\pi}{4} \leq t \leq \frac{\pi}{3}$;

г) найти работу силы $F = (y - z, xz, x^2)$ вдоль отрезка прямой $AB: A(0, 2, -1), B(2, 1, 0)$.