

k -й знаменатель равен $4k-1$. Следовательно, общий член ряда имеет вид $a_k = \left(\frac{k+1}{4k-1}\right)^k$.

3 Вычислить сумму ряда $\sum_{k=1}^{\infty} \frac{1}{(2k-1)(2k+1)}$.

Решение. Поскольку

$$\frac{1}{(2k-1)(2k+1)} = \frac{1}{2} \left(\frac{1}{2k-1} - \frac{1}{2k+1} \right),$$

то

$$a_1 = \frac{1}{2} \left(1 - \frac{1}{3} \right), \quad a_2 = \frac{1}{2} \left(\frac{1}{3} - \frac{1}{5} \right), \\ a_3 = \frac{1}{2} \left(\frac{1}{5} - \frac{1}{7} \right), \quad a_4 = \frac{1}{2} \left(\frac{1}{7} - \frac{1}{9} \right) \text{ и т. д.}$$

Следовательно,

$$S_n = \frac{1}{2} \left(1 - \frac{1}{3} \right) + \frac{1}{2} \left(\frac{1}{3} - \frac{1}{5} \right) + \frac{1}{2} \left(\frac{1}{5} - \frac{1}{7} \right) + \dots + \frac{1}{2} \left(\frac{1}{2n-1} - \frac{1}{2n+1} \right) = \\ = \frac{1}{2} \left(1 - \frac{1}{3} + \frac{1}{3} - \frac{1}{5} + \frac{1}{5} - \frac{1}{7} + \dots + \frac{1}{2n-1} - \frac{1}{2n+1} \right) = \frac{1}{2} \left(1 - \frac{1}{2n+1} \right).$$

Тогда

$$\lim_{n \rightarrow \infty} S_n = \frac{1}{2} \lim_{n \rightarrow \infty} \left(1 - \frac{1}{2n+1} \right) = \frac{1}{2}.$$

Значит, ряд сходится и сумма ряда равна $\frac{1}{2}$.

4 Исследовать сходимость рядов:

а) $\sum_{k=1}^{\infty} (-1)^{k-1} a$, $a \in \mathbb{R}$, $a \neq 0$;

б) $\sum_{k=1}^{\infty} aq^{k-1}$, $a \neq 0$.

Решение. а) для ряда

$$a - a + a - a + \dots = \sum_{k=1}^{\infty} (-1)^{k-1} a$$

составим частичные суммы:

$$S_1 = a, \quad S_2 = 0, \quad \dots, \quad S_{2n-1} = a, \quad S_{2n} = 0, \quad \dots$$

$$\int \operatorname{tg}^2 x dx = \left[\begin{array}{l} \operatorname{tg} x = t; \\ x = \operatorname{arctg} t; \\ dx = \frac{dt}{1+t^2} \end{array} \right] = \int \frac{t^2 dt}{1+t^2} = \int \frac{t^2+1-1}{1+t^2} dt = \int dt - \int \frac{1}{1+t^2} dt = \\ = t + \operatorname{arctg} t + C = [t = \operatorname{tg} x] = \operatorname{tg} x + \operatorname{arctg}(\operatorname{tg} x) + C = \operatorname{tg} x + x + C;$$

е) имеем:

$$\int \sin 2x \cdot \cos 5x dx = \frac{1}{2} \int (\sin 7x + \sin(-3x)) dx = \\ = \frac{1}{2} \int \sin 7x dx - \frac{1}{2} \int \sin 3x dx = -\frac{1}{14} \cos 7x + \frac{1}{6} \cos 3x + C;$$

ж) имеем:

$$\int \sin 7x \sin 5x dx = \left[\sin 5x \sin 7x = \frac{1}{2} (\cos 2x - \cos 12x) \right] = \\ = \frac{1}{2} \int (\cos 2x - \cos 12x) dx = \frac{1}{2} \left(\frac{\sin 2x}{2} - \frac{\sin 12x}{12} \right) + C = \\ = \frac{1}{4} \sin 2x - \frac{1}{24} \sin 12x + C;$$

и) имеем:

$$\int \frac{e^{3x} dx}{e^{2x} + 1} = \left[\begin{array}{l} t = e^x, \\ x = \ln t, \quad dx = \frac{dt}{t} \end{array} \right] = \int \frac{t^3 \cdot \frac{dt}{t}}{t^2 + 1} = \int \frac{t^2 dt}{t^2 + 1} = \int \frac{t^2 + 1 - 1}{t^2 + 1} dt = \\ = \int \left(1 - \frac{1}{t^2 + 1} \right) dt = t - \operatorname{arctg} t + C = [t = e^x] = e^x - \operatorname{arctg}(e^x) + C;$$

к) имеем:

$$\int \operatorname{ch}^2 x \operatorname{sh}^3 x dx = \int \operatorname{ch}^2 x \operatorname{sh}^2 x \operatorname{sh} x dx = \int \operatorname{ch}^2 x (\operatorname{ch}^2 x - 1) d(\operatorname{ch} x) = \\ = \int \operatorname{ch}^4 x d(\operatorname{ch} x) - \int \operatorname{ch}^2 x d(\operatorname{ch} x) = \frac{\operatorname{ch}^5 x}{5} - \frac{\operatorname{ch}^3 x}{5} + C.$$

Тема 6 Определенный интеграл и формула Ньютона-Лейбница

1 Вычислить по определению интегралы:

а) $\int_0^5 (1+x) dx$; б) $\int_0^{\frac{\pi}{2}} \cos x dx$.

2 Определить знаки интегралов, не вычисляя их:

а) $\int_{-2}^1 \sqrt[3]{x} dx$; б) $\int_{-1}^1 x^3 e^x dx$.

3 Не вычисляя интегралов, выяснить, какой из интегралов больше:

а) $\int_0^1 e^{-x} \cos^2 x dx$ и $\int_0^1 e^{-x^2} \cos^2 x dx$; б) $\int_1^2 \frac{dx}{x}$ и $\int_1^2 \frac{dx}{\sqrt{1+x^2}}$.

4 Найти среднее значение функции на данном отрезке:

а) x^3 , $[0;1]$; б) $\cos x$, $\left[0; \frac{\pi}{2}\right]$.

5 Оценить интегралы:

а) $\int_{-1}^1 \sqrt{8+x^3} dx$; б) $\int_0^{2\pi} \frac{dx}{\sqrt{5+2\sin x}}$.

6 Доказать, что если функция $f(x)$ четная на $[-a; a]$, то

$$\int_{-a}^a f(x) dx = 2 \int_0^a f(x) dx.$$

7 Найти производные следующих функций:

а) $\int_x^0 \frac{dt}{\sqrt{1+t^3}}$; б) $\int_{\frac{1}{x}}^{\sqrt{x}} \sin(t^2) dt$.

8 Используя формулу Ньютона-Лейбница, вычислить интегралы:

а) $\int_{-2}^2 x^3 dx$; г) $\int_{\frac{\pi}{2}}^{\pi} \sin x dx$;

в) $\sum_{k=1}^{\infty} 2^k \left(\frac{k}{k+4}\right)^{k^2}$; е) $\sum_{k=1}^{\infty} \left(\frac{3k}{k+5}\right)^k \left(\frac{k+2}{k+3}\right)^{k^2}$.

Примеры оформления решения

1 Записать первые пять членов ряда, общий член которого задан

формулой $a_k = \frac{k}{2^{k-1}(3k+1)}$.

Решение. Полагая в формуле общего члена $k = 1, 2, 3, 4, 5$, получим

$$a_1 = \frac{1}{2^{1-1}(3 \cdot 1 + 1)} = \frac{1}{4},$$

$$a_2 = \frac{2}{2^{2-1}(3 \cdot 2 + 1)} = \frac{2}{14},$$

$$a_3 = \frac{3}{2^{3-1}(3 \cdot 3 + 1)} = \frac{3}{40},$$

$$a_4 = \frac{4}{2^{4-1}(3 \cdot 4 + 1)} = \frac{4}{104},$$

$$a_5 = \frac{5}{2^{5-1}(3 \cdot 5 + 1)} = \frac{5}{256}.$$

Ряд можно записать в виде

$$\sum_{k=1}^{\infty} \frac{k}{2^{k-1}(3k+1)} = \frac{1}{4} + \frac{2}{14} + \frac{3}{40} + \frac{4}{104} + \frac{5}{256} + \dots$$

2 Найти общий член ряда

$$\frac{2}{3} + \left(\frac{3}{7}\right)^2 + \left(\frac{4}{11}\right)^3 + \left(\frac{5}{15}\right)^4 + \dots$$

Решение. Показатель степени каждого члена совпадает с номером этого члена, поэтому показатель степени k -го члена равен k .

Числители дробей $\frac{2}{3}, \frac{3}{7}, \frac{4}{11}, \frac{5}{15}, \dots$ образуют арифметическую прогрессию с первым членом 2 и разностью 1. Поэтому k -й числитель равен $k+1$. Знаменатели образуют арифметическую прогрессию с первым членом 3 и разностью 4. Поэтому

$$а) \sum_{k=1}^{\infty} \frac{2k+1}{3k+2};$$

$$б) \sum_{k=1}^{\infty} \frac{5k-2}{5k+3}.$$

5 С помощью интегрального признака исследовать сходимость рядов:

$$а) \sum_{k=1}^{\infty} \frac{1}{k\sqrt{k}};$$

$$г) \sum_{k=2}^{\infty} \frac{1}{k \ln^2 k};$$

$$б) \sum_{k=2}^{\infty} \frac{1}{k \ln k};$$

$$д) \sum_{k=1}^{\infty} \frac{1}{k^2+9};$$

$$в) \sum_{k=2}^{\infty} \frac{1}{(k+1) \ln^3 k};$$

$$е) \sum_{k=1}^{\infty} k^2 e^{-k^3}.$$

6 С помощью признаков сравнения исследовать сходимость рядов:

$$а) \sum_{k=1}^{\infty} \frac{1}{2^k+9};$$

$$д) \sum_{k=2}^{\infty} \frac{1}{\ln k};$$

$$б) \sum_{k=1}^{\infty} \frac{1}{k^2+6};$$

$$е) \sum_{k=1}^{\infty} \frac{1}{3k-1};$$

$$в) \sum_{k=1}^{\infty} \frac{5^k}{5^{2k}+7};$$

$$ж) \sum_{k=1}^{\infty} \frac{1}{k\sqrt{k^2+1}};$$

$$г) \sum_{k=1}^{\infty} \frac{k+1}{\sqrt{k^4+9}};$$

$$и) \sum_{k=1}^{\infty} \frac{k^3-3k^2+5}{2k^5+9k}.$$

7 С помощью признака Д'аламбера исследовать сходимость рядов:

$$а) \sum_{k=1}^{\infty} \frac{1}{k5^{2k-1}};$$

$$в) \sum_{k=1}^{\infty} \frac{(2k-1)!!}{(2k)!!} \frac{1}{k2^{k+1}};$$

$$б) \sum_{k=2}^{\infty} \frac{2k}{3^k(2k-1)};$$

$$г) \sum_{k=1}^{\infty} \frac{3^k}{k^4}.$$

8 С помощью признака Коши исследовать сходимость рядов:

$$а) \sum_{k=1}^{\infty} \left(\frac{3k-1}{4k+5} \right)^k;$$

$$г) \sum_{k=1}^{\infty} \left(\frac{5k+2}{3k+4} \right)^k;$$

$$б) \sum_{k=2}^{\infty} \left(\frac{2k^2+5k+2}{3k^2+k+3} \right)^k;$$

$$д) \sum_{k=1}^{\infty} \left(\frac{3k^2+6k+8}{2k^2-k+6} \right)^k;$$

$$б) \int_1^2 e^{-x} dx;$$

$$д) \int_2^5 \frac{dx}{3x+1};$$

$$в) \int_0^1 \frac{x^2 dx}{1+x^6};$$

$$е) \int_0^{\frac{\pi}{4}} \sin^2 x dx.$$

9 Вычислить интегралы с помощью замены переменной:

$$а) \int_1^6 \frac{dx}{1+\sqrt{3x-2}}; \quad б) \int_{\ln 3}^{\ln 8} \frac{dx}{\sqrt{1+e^x}}; \quad в) \int_0^3 x^2 \sqrt{9-x^2} dx.$$

10 Вычислить интегралы методом интегрирования по частям:

$$а) \int_1^e \ln^2 x dx; \quad б) \int_0^1 x \arcsin x dx; \quad в) \int_{\frac{\pi}{6}}^{\frac{\pi}{3}} \frac{x dx}{\cos^2 x}.$$

Примеры оформления решения

1 Вычислить определенный интеграл $\int_1^2 x^2 dx$, рассматривая его

как предел интегральных сумм.

Решение. Разделим отрезок интегрирования $[1;2]$ на n равных частей длины $\Delta x = \frac{1}{n}$. Точки деления

$$x_0 = 1, \quad x_1 = 1 + \frac{1}{n}, \quad x_2 = 1 + \frac{2}{n}, \quad \dots, \quad x_{n-1} = 1 + \frac{n-1}{n}, \quad x_n = 2.$$

В качестве точек ξ_k выберем, например, левые концы каждого частичного отрезка. Тогда

$$f(x_0) = 1, \quad f(x_1) = \left(1 + \frac{1}{n}\right)^2, \quad \dots, \quad f(x_{n-1}) = \left(1 + \frac{n-1}{n}\right)^2.$$

Следовательно,

$$\begin{aligned} S_n &= \frac{1}{n} \left(1 + \left(1 + \frac{1}{n}\right)^2 + \left(1 + \frac{2}{n}\right)^2 + \dots + \left(1 + \frac{n-1}{n}\right)^2 \right) = \\ &= \frac{1}{n^3} \left(n^2 + (n+1)^2 + (n+2)^2 + \dots + (2n-1)^2 \right) = \frac{1}{n^3} \left(\sum_{k=1}^{2n-1} k^2 - \sum_{k=1}^{n-1} k^2 \right) \end{aligned}$$

Применяя формулу суммы квадратов целых чисел

$$\sum_{k=1}^n k^2 = \frac{n(n+1)(2n+1)}{6},$$

находим

$$S_n = \frac{1}{n^3} \left(\frac{(2n-1)2n(4n-1)}{6} - \frac{(n-1)n(2n-1)}{6} \right) = \frac{14n^2 - 9n + 1}{6n^2}.$$

Тогда

$$\int_1^2 x^2 dx = \lim_{n \rightarrow \infty} S_n = \lim_{n \rightarrow \infty} \frac{14n^2 - 9n + 1}{6n^2} = \frac{7}{3}.$$

2 Оценить интеграл $I = \int_0^1 \frac{dx}{\sqrt{1+x^4}}$.

Решение. При $0 \leq x \leq 1$ имеем $1 \leq 1+x^4 \leq 2$.

Тогда

$$\frac{1}{\sqrt{2}} \leq \frac{1}{\sqrt{1+x^4}} \leq 1.$$

Отсюда $m = \frac{1}{\sqrt{2}}$, $M = 1$, $b - a = 1$.

Поэтому $\frac{1}{\sqrt{2}} \leq I \leq 1$.

3 Найти $I'(x)$, если $I(x) = \int_0^{x^2} e^{-t^2} dt$.

Решение. Используя теорему 6, получим

$$I'(x) = \left(\int_0^{x^2} e^{-t^2} dt \right)' = e^{-(x^2)^2} \cdot (x^2)' = 2xe^{-x^4}.$$

4 Вычислить интегралы с помощью формулы Ньютона-Лейбница:

а) $\int_0^{\frac{\pi}{2}} \sin x dx$;

в) $\int_1^6 \frac{dx}{\sqrt{3+x}}$;

б) $\int_1^2 \frac{dx}{x}$;

г) $\int_{-1}^0 e^{-2x} dx$.

г) $\int_1^{+\infty} \frac{\sin x dx}{x^p}$ сходится.

6 Исследовать на сходимость интеграл $\int_1^{+\infty} \frac{\sin x \arctg x dx}{x^p}$.

Решение. Интеграл $\int_1^{+\infty} \frac{\sin x dx}{x^p}$ сходится, а функция

$g(x) = \arctg x$ ограничена и монотонна. В силу признака Абеля интеграл

$$\int_1^{+\infty} \frac{\sin x \arctg x dx}{x^p}$$

сходится.

Раздел 5 Теория рядов

Тема 1 Ряды с неотрицательными членами

1 Записать первые шесть членов ряда по заданному общему члену:

а) $a_k = \frac{k}{3^k(2k+1)}$;

в) $a_k = \frac{3k+4}{4k-1}$;

б) $a_k = \frac{k!}{2^k(2k-1)!!}$;

г) $a_k = \frac{(2k+1)!!}{(k+1)2^k}$.

2 Записать формулу общего члена для рядов:

а) $1 + \frac{1}{2\sqrt{2}} + \frac{1}{3\sqrt{3}} + \dots$;

в) $1 + \frac{1}{2} + \frac{1}{6} + \frac{1}{24} + \dots$;

б) $\frac{10}{7} + \frac{100}{9} + \frac{1000}{11} + \frac{10000}{13} + \dots$;

г) $\frac{1}{2} + \frac{3}{4} + \frac{5}{6} + \frac{7}{8} + \dots$.

3 Найти суммы рядов:

а) $\sum_{k=1}^{\infty} \frac{1}{(4k-3)(4k+1)}$;

в) $\sum_{k=1}^{\infty} \frac{1}{k(k+2)}$;

б) $\sum_{k=1}^{\infty} \frac{1}{2^{k-1}}$;

г) $\sum_{k=1}^{\infty} \frac{(-1)^k}{5^{k-1}}$.

4 Используя необходимое условие, исследовать сходимость рядов:

$\int_1^{+\infty} \frac{\cos x}{x^2} dx$ абсолютно сходится. Следовательно, интеграл

$\int_1^{+\infty} \frac{\sin x dx}{x}$ сходится;

б) из неравенства

$$|\sin x| \geq \sin^2 x = \frac{1 - \cos 2x}{2}$$

следует, что для любого $\eta > 1$ выполняется неравенство

$$\int_1^\eta \frac{|\sin x| dx}{x} \geq \frac{1}{2} \int_1^\eta \frac{dx}{x} - \frac{1}{2} \int_1^\eta \frac{\cos 2x dx}{x}.$$

Интеграл $\int_1^{+\infty} \frac{dx}{x}$ расходится.

Интеграл $\int_1^{+\infty} \frac{\cos 2x dx}{x}$ сходится, поскольку

$$\begin{aligned} \int_1^{+\infty} \frac{\cos 2x dx}{x} &= \frac{1}{2} \int_1^{+\infty} \frac{d(\sin 2x)}{x} = \frac{1}{2} \frac{\sin 2x}{x} \Big|_1^{+\infty} + \frac{1}{2} \int_1^{+\infty} \frac{\sin 2x}{x^2} dx = \\ &= -\frac{1}{2} \sin 2 + \frac{1}{2} \int_1^{+\infty} \frac{\sin 2x}{x^2} dx \end{aligned}$$

и интеграл $\int_1^{+\infty} \frac{\sin 2x}{x^2} dx$ сходится ($|\frac{\sin 2x}{x^2}| \leq \frac{1}{x^2}$ и интеграл $\int_1^{+\infty} \frac{dx}{x^2}$ сходится).

Значит, интеграл $\int_1^{+\infty} \frac{|\sin x| dx}{x}$ расходится.

5 Исследовать на сходимость интеграл $\int_1^{+\infty} \frac{\sin x dx}{x^p}$.

Решение. Функция $f(x) = \sin x$ имеет ограниченную первообразную $F(x) = -\cos x$, а функция $g(x) = \frac{1}{x^p}$, $p > 0$, убывает

при $x \rightarrow +\infty$, т. е. $\lim_{x \rightarrow +\infty} \frac{1}{x^p} = 0$. Согласно признаку Дирихле инте-

Решение. а) имеем:

$$\int_0^{\frac{\pi}{2}} \sin x dx = -\cos x \Big|_0^{\frac{\pi}{2}} = -\left(\cos \frac{\pi}{2} - \cos 0\right) = 1;$$

б) имеем:

$$\int_1^2 \frac{dx}{x} = \ln x \Big|_1^2 = \ln 2 - \ln 1 = \ln 2;$$

в) имеем:

$$\int_1^6 \frac{dx}{\sqrt{3+x}} = \int_1^6 (3+x)^{-1/2} d(3+x) = 2\sqrt{3+x} \Big|_1^6 = 2(\sqrt{9} - \sqrt{4}) = 2;$$

г) имеем:

$$\int_{-1}^0 e^{-2x} dx = -\frac{1}{2} e^{-2x} \Big|_{-1}^0 = -\frac{1}{2}(e^0 - e^2) = \frac{e^2 - 1}{2}.$$

5 Вычислить интеграл $\int_0^1 \sqrt{1-x^2} dx$.

Решение. Имеем:

$$\int_0^1 \sqrt{1-x^2} dx = \begin{cases} x = \sin t, \\ dx = \cos t dt, \\ x = 0 \Rightarrow t = 0, \\ x = 1 \Rightarrow t = \frac{\pi}{2} \end{cases} = \int_0^{\frac{\pi}{2}} \sqrt{1-\sin^2 t} \cos t dt = \int_0^{\frac{\pi}{2}} \cos^2 t dt =$$

$$= \frac{1}{2} \int_0^{\frac{\pi}{2}} (1 + \cos 2t) dt = \frac{1}{2} \left(t + \frac{1}{2} \sin 2t \right) \Big|_0^{\frac{\pi}{2}} = \frac{\pi}{4}.$$

6 Вычислить интеграл $\int_1^e \ln x dx$.

Решение. Имеем

$$\begin{aligned} \int_1^e \ln x dx &= \begin{cases} u = \ln x; du = \frac{1}{x} dx; \\ dv = dx; v = x \end{cases} = x \ln x \Big|_1^e - \int_1^e \frac{1}{x} x dx = e - \int_1^e dx = \\ &= e - x \Big|_1^e = 1. \end{aligned}$$

Тема 7 Геометрические приложения определенного интеграла

1 Найти площадь фигуры, ограниченной кривой $y = \ln x$ и прямыми $x = e$, $x = e^2$, $y = 0$.

2 Найти площадь фигуры, ограниченной параболой $y^2 = 4x$ и прямой $x = 4y$.

3 Найти площадь фигуры, ограниченной параболой $y = x^2 + 2x$ и прямой $y = x + 2$.

4 Найти площадь фигуры, ограниченной кривыми $y = \frac{27}{x^2 + 9}$ и $y = \frac{x^2}{6}$.

5 Найти площадь фигуры, ограниченной астроидами $x = a \cos^3 t$, $y = a \sin^3 t$.

6 Найти площадь петли кривой $x = a(t^2 + 1)$, $y = b(t^3 - 3t)$.

7 Найти площадь одного лепестка кривой $r = a \sin 2\varphi$.

8 Найти площадь фигуры, ограниченной двумя последовательными витками логарифмической спирали $r = e^\varphi$, начиная с $\varphi = 0$.

9 Найти длину параболы $y = x^2$ от $x = 0$ до $x = 1$.

10 Найти длину одной арки циклоиды $x = a(t - \sin t)$, $y = a(1 - \cos t)$, $0 \leq t \leq 2\pi$.

11 Найти длину петли кривой $x = t^2$, $y = t\left(\frac{1}{3} - t^2\right)$.

12 Найти длину кардиоиды $r = 2(1 - \cos \varphi)$.

13 Вычислить площадь поверхности, образованной вращением вокруг полярной оси кардиоиды $r = 2a(1 + \cos \varphi)$.

14 Найти площадь поверхности, образованной вращением вокруг оси Ox дуги цепной линии $y = \frac{1}{2} \operatorname{ch} 2x$, $0 \leq x \leq 3$.

Решение. а) сравним интеграл $\int_0^1 \frac{dx}{\ln x}$ с расходящимся интегралом $\int_0^1 \frac{dx}{x-1}$. Поскольку

$$\ln x = \ln(1 + (x-1)) \sim x-1$$

при $x \rightarrow 1$, то

$$\lim_{x \rightarrow 1} \frac{\ln x}{x-1} = \lim_{x \rightarrow 1} \frac{\ln(1 + (x-1))}{x-1} = 1;$$

Значит, интеграл $\int_0^1 \frac{dx}{\ln x}$ расходится;

б) сравним данный интеграл со сходящимся интегралом $\int_1^{+\infty} \frac{dx}{x^2}$.

Поскольку

$$\frac{1}{\sqrt{x^3 + 1}} < \frac{1}{\sqrt{x^3}} = \frac{1}{x^{\frac{3}{2}}}, \quad \forall x \in [1; +\infty)$$

то из сходимости интеграла $\int_1^{+\infty} \frac{dx}{x^{\frac{3}{2}}}$ согласно признаку сравнения

следует, что интеграл $\int_1^{+\infty} \frac{dx}{\sqrt{x^3 + 1}}$ сходится.

4 Исследовать на сходимость интегралы

а) $\int_1^{+\infty} \frac{\sin x dx}{x}$, б) $\int_1^{+\infty} \frac{|\sin x| dx}{x}$.

Решение. а) имеем

$$\begin{aligned} \int_1^{+\infty} \frac{\sin x dx}{x} &= - \int_1^{+\infty} \frac{d(\cos x)}{x} = - \frac{\cos x}{x} \Big|_1^{+\infty} + \int_1^{+\infty} \cos x d\left(\frac{1}{x}\right) = \\ &= \cos 1 - \int_1^{+\infty} \frac{\cos x}{x^2} dx. \end{aligned}$$

Поскольку $\left| \frac{\cos x}{x^2} \right| \leq \frac{1}{x^2}$ и интеграл $\int_1^{+\infty} \frac{dx}{x^2}$ сходится, то интеграл

$$\int_1^{+\infty} \frac{dx}{x^p} = \lim_{b \rightarrow +\infty} \int_1^b x^{-p} dx = \lim_{b \rightarrow +\infty} \left. \frac{x^{-p+1}}{-p+1} \right|_1^b = \begin{cases} \frac{1}{1-p}, & \text{если } p > 1, \\ +\infty, & \text{если } p < 1. \end{cases}$$

Значит, интеграл $\int_1^{+\infty} \frac{dx}{x^p}$ сходится при $p > 1$ и расходится при

$p \leq 1$;

в) при $p = 1$ имеем:

$$\int_0^1 \frac{dx}{x} = \lim_{\varepsilon \rightarrow 0} \int_{\varepsilon}^1 \frac{dx}{x} = \lim_{\varepsilon \rightarrow 0} \ln x \Big|_{\varepsilon}^1 = \lim_{\varepsilon \rightarrow 0} (\ln 1 - \ln \varepsilon) = +\infty.$$

При $p \neq 1$ имеем:

$$\int_0^1 \frac{dx}{x^p} = \lim_{\varepsilon \rightarrow 0} \int_{\varepsilon}^1 x^{-p} dx = \lim_{\varepsilon \rightarrow 0} \left. \frac{x^{-p+1}}{-p+1} \right|_{\varepsilon}^1 = \begin{cases} \frac{1}{1-p}, & \text{если } p < 1, \\ +\infty, & \text{если } p > 1. \end{cases}$$

Значит, интеграл $\int_0^1 \frac{dx}{x^p}$ сходится при $p < 1$ и расходится при

$p \geq 1$.

2 Вычислить интеграл $\int_0^{+\infty} x^n e^{-x} dx$, $n = 0, 1, 2, \dots$

Решение. Проинтегрируем по частям:

$$I_n = \int_0^{+\infty} x^n e^{-x} dx = \left[\begin{array}{l} u = x^n; dv = e^{-x}; \\ du = nx^{n-1}; v = -e^{-x} \end{array} \right] = -x^n e^{-x} \Big|_0^{+\infty} + n \int_0^{+\infty} x^{n-1} e^{-x} dx,$$

т. е. $I_n = n \cdot I_{n-1}$.

Поскольку

$$I_0 = \int_0^{+\infty} e^{-x} dx = -e^{-x} \Big|_0^{+\infty} = 1,$$

то, применяя последовательно рекуррентную формулу, получим

$$I_n = n I_{n-1} = n(n-1) I_{n-2} = \dots = n! I_0 = n!.$$

3 Исследовать на сходимость интегралы

а) $\int_0^1 \frac{dx}{\ln x}$; б) $\int_1^{+\infty} \frac{dx}{\sqrt{x^3+1}}$.

15 Найти объем тела, образованного вращением вокруг оси Oy фигуры, ограниченной кривой $x = \cos t$, $y = \sin 2t$, $0 \leq t \leq \frac{\pi}{2}$, и осью Ox .

16 Найти объем тела, образованного вращением вокруг оси Ox криволинейной трапеции, ограниченной кривыми $2y^2 = x^3$, $x = 4$.

Примеры оформления решения

1 Вычислить площадь фигуры, ограниченной аркой синусоиды $y = \sin x$ и прямой $y = 0$ (рисунок 7. 1).

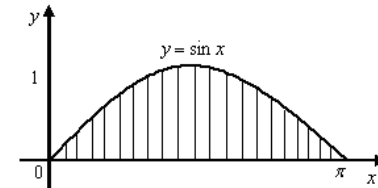


Рисунок 7. 1 – Фигура, ограниченная линиями $y = \sin x$, $y = 0$

Решение. Находим:

$$S = \int_0^{\pi} \sin x dx = -\cos x \Big|_0^{\pi} = -(\cos \pi - \cos 0) = 2.$$

2 Вычислить площадь эллипса $x = a \cos t$, $y = b \sin t$, где $0 \leq t \leq 2\pi$ (рисунок 7. 2).

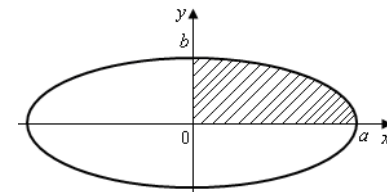


Рисунок 7. 2 – Эллипс

Решение. Оси координат совпадают с осями симметрии данного эллипса и поэтому делят его на четыре одинаковые части. Следовательно, $S = 4S_1$, где S_1 – площадь части эллипса, расположенная в первом квадранте. Тогда

$$S = 4S_1 = 4 \int_0^a y dx = \left[\begin{array}{l} x = a \cos t, y = b \sin t, \\ dx = -a \sin t dt, \\ x = 0 \Rightarrow t = \frac{\pi}{2}, \\ x = a \Rightarrow t = 0. \end{array} \right] = -4ab \int_{\frac{\pi}{2}}^0 \sin^2 t dt =$$

$$= -2ab \int_0^{\frac{\pi}{2}} (1 - \cos 2t) dt = 2ab \left(t - \frac{1}{2} \sin 2t \right) \Big|_0^{\frac{\pi}{2}} = \pi ab.$$

3 Вычислить площадь криволинейного сектора, ограниченного кардиоидой $r = a(1 + \cos \varphi)$, где $0 \leq \varphi \leq 2\pi$.

Решение. Получим:

$$S = \frac{1}{2} \int_a^\beta r^2(\varphi) d\varphi = \frac{a^2}{2} \int_0^{2\pi} (1 + \cos \varphi)^2 d\varphi =$$

$$= \frac{a^2}{2} \left(\int_0^{2\pi} 1 d\varphi + 2 \int_0^{2\pi} \cos \varphi d\varphi + \int_0^{2\pi} \cos^2 \varphi d\varphi \right) =$$

$$= \frac{a^2}{2} \left(\varphi \Big|_0^{2\pi} + 2 \cos \varphi \Big|_0^{2\pi} + \frac{1}{2} \left(1 + \frac{1}{2} \sin 2\varphi \right) \Big|_0^{2\pi} \right) = \frac{3}{2} \pi a^2.$$

4 Вычислить длину дуги полукубической параболы $y = x^{\frac{3}{2}}$, если $0 \leq x \leq 5$.

Решение. Имеем:

$$l = \int_0^5 \sqrt{1 + \left(\frac{3}{2} x^{\frac{1}{2}} \right)^2} dx = \frac{8}{27} \left(1 + \frac{9x}{4} \right)^{\frac{3}{2}} \Big|_0^5 = \frac{235}{27}.$$

5 Вычислить длину астроида $x = a \cos^3 t$, $y = a \sin^3 t$, если $0 \leq t \leq 2\pi$.

Решение. В силу симметричности астроида относительно осей получим:

$$l = 4 \int_0^{\frac{\pi}{2}} \sqrt{(x'_t)^2 + (y'_t)^2} dt = \left[\begin{array}{l} x'_t = -3a \cos^2 t \sin t, \\ y'_t = 3a \cos t \sin^2 t \end{array} \right] =$$

$$\text{б) } \int_1^{e^2} \frac{dx}{x\sqrt{\ln x}}; \quad \text{г) } \int_{-8}^8 \frac{dx}{\sqrt[3]{x}}.$$

5 Исследовать на сходимость интегралы:

$$\text{а) } \int_0^1 \frac{dx}{\operatorname{tg} x - x}; \quad \text{д) } \int_0^1 \frac{x^2}{\sqrt{1-x^4}} dx;$$

$$\text{б) } \int_0^1 \frac{\cos \frac{1}{x}}{\sqrt{x}} dx; \quad \text{е) } \int_0^{\frac{\pi}{2}} \frac{\sin^2 x dx}{\cos x};$$

$$\text{в) } \int_0^1 \ln x dx; \quad \text{ж) } \int_0^4 \frac{dx}{\sqrt{x}};$$

$$\text{г) } \int_0^{0.4} \frac{dx}{\sqrt{2-5x}}; \quad \text{и) } \int_0^{\frac{1}{2}} \frac{\cos^3(\ln x)}{x \ln x} dx.$$

6 Вычислить интеграл в смысле главного значения:

$$\text{а) } \text{v.p.} \int_{-\infty}^{+\infty} \sin x dx; \quad \text{б) } \text{v.p.} \int_{-\infty}^{+\infty} \operatorname{arctg} x dx; \quad \text{в) } \text{v.p.} \int_{-\infty}^{+\infty} \frac{13+x}{17+x^2} dx.$$

Примеры оформления решения

1 Вычислить интегралы

$$\text{а) } \int_0^{+\infty} \frac{dx}{1+x^2}; \quad \text{б) } \int_1^{+\infty} \frac{dx}{x^p}; \quad \text{в) } \int_0^1 \frac{dx}{x^p}.$$

Решение. а) имеем:

$$\int_0^{+\infty} \frac{dx}{1+x^2} = \lim_{b \rightarrow +\infty} \int_0^b \frac{dx}{1+x^2} = \lim_{b \rightarrow +\infty} \operatorname{arctg} x \Big|_0^b = \lim_{b \rightarrow +\infty} (\operatorname{arctg} b - \operatorname{arctg} 0) =$$

$$= \lim_{b \rightarrow +\infty} \operatorname{arctg} b = \frac{\pi}{2};$$

б) при $p = 1$ имеем:

$$\int_1^{+\infty} \frac{dx}{x} = \lim_{b \rightarrow +\infty} \int_1^b \frac{dx}{x} = \lim_{b \rightarrow +\infty} \ln x \Big|_1^b = \lim_{b \rightarrow +\infty} (\ln b - \ln 1) = +\infty.$$

При $p \neq 1$ получим:

Следовательно, искомая работа равна

$$A = \int_0^{0,1} 100x \, dx = 50x^2 \Big|_0^{0,1} = 0,5 \text{ кДж.}$$

Тема 9 Несобственные интегралы

1 Вычислить несобственные интегралы (или установить их расходимость):

а) $\int_e^{+\infty} \frac{dx}{x \ln^3 x}$;	д) $\int_{-\infty}^{+\infty} \frac{dx}{x^2 + 6x + 11}$;
б) $\int_0^{+\infty} e^{-2x} \cos x \, dx$;	е) $\int_0^{+\infty} \frac{x \, dx}{x^2 + 4}$;
в) $\int_0^{+\infty} \frac{dx}{(x+2)^6}$;	ж) $\int_0^{+\infty} x e^{-x^2} \, dx$;
г) $\int_0^{+\infty} \sin 2x \, dx$;	и) $\int_1^{+\infty} \frac{dx}{\sqrt{x^2 + 1}}$.

2 Исследовать на сходимость интегралы:

а) $\int_1^{+\infty} \frac{dx}{5x^4 + 2x^2 + 3}$;	в) $\int_1^{+\infty} \frac{\sqrt{x^3 + \sqrt{x^2 + 1}}}{x^3 + 3x + 1} \, dx$;
б) $\int_1^{+\infty} \frac{\sin \frac{1}{x}}{2 + x\sqrt{x}} \, dx$;	г) $\int_1^{+\infty} \frac{dx}{\sqrt[3]{x^{11}}}$.

3 Вычислить площадь бесконечной трапеции, ограниченной указанными линиями:

а) $y = x e^{-x}$, ($x \geq 0$), $y = 0$;

б) $y = \frac{1}{x^2 + 9}$, $y = 0$.

4 Вычислить несобственные интегралы (или установить их расходимость):

а) $\int_{\frac{1}{3}}^{\frac{2}{3}} \frac{dx}{x\sqrt{9x^2 - 1}}$;	в) $\int_0^2 \frac{x^3 \, dx}{\sqrt{4 - x^2}}$;
---	--

$$= 4 \int_0^{\frac{\pi}{2}} \sqrt{9a^2 \cos^4 t \sin^2 t + 9a^2 \sin^4 t \cos^2 t} \, dt = 6a \int_0^{\frac{\pi}{2}} \sin 2t \, dt = 6a.$$

6 Вычислить длину первого витка спирали Архимеда $r = a\varphi$.

Решение. Первый виток спирали образуется при изменении полярного угла $0 \leq \varphi \leq 2\pi$. Поэтому

$$l = \int_0^{2\pi} \sqrt{a^2 \varphi^2 + a^2} \, d\varphi = a \int_0^{2\pi} \sqrt{\varphi^2 + 1} \, d\varphi = a \left(\pi \sqrt{4\pi^2 + 1} + \frac{1}{2} \ln \left(2\pi + \sqrt{4\pi^2 + 1} \right) \right).$$

7 Вычислить площадь S поверхности, полученной вращением одной арки циклоиды $x = a(t - \sin t)$, $y = a(1 - \cos t)$, $0 \leq t \leq 2\pi$, вокруг оси Ox .

Решение. Имеем:

$$S = 2\pi \int_0^{2\pi} a(1 - \cos t) \sqrt{(a \sin t)^2 + (a(1 - \cos t))^2} \, dt = 2\sqrt{2}\pi a^2 \int_0^{2\pi} (1 - \cos t)^{\frac{3}{2}} \, dt = \frac{64}{3}\pi a^2.$$

8 Вычислить объем тела, ограниченного эллипсоидом

$$\frac{x^2}{a^2} + \frac{y^2}{b^2} + \frac{z^2}{c^2} = 1.$$

Решение. Пересечем эллипсоид плоскостью $x = h$. В сечении получим эллипс

$$\begin{cases} \frac{y^2}{b^2 \left(1 - \frac{x^2}{a^2}\right)} + \frac{z^2}{c^2 \left(1 - \frac{x^2}{a^2}\right)} = 1, \\ x = h. \end{cases}$$

Площадь поперечного сечения равна $S(x) = \pi b c \left(1 - \frac{h^2}{a^2}\right)$.

Тогда

$$V = \int_{-a}^a \pi b c \left(1 - \frac{h^2}{a^2}\right) dh = \pi b c \left(x - \frac{h^2}{3a^2}\right) \Big|_{-a}^a = \frac{4}{3} \pi a b c.$$

9 Вычислить объем тела, получающегося от вращения вокруг оси одной арки синусоиды $y = \sin x$.

Решение. Имеем

$$S = \pi \int_0^{\pi} \sin^2 x dx = \frac{\pi}{2} \left(\int_0^{\pi} dx - \int_0^{\pi} \cos 2x dx \right) = \frac{\pi^2}{2}.$$

Тема 8 Физические приложения определенного интеграла

1 Какую работу затрачивает подъемный кран при извлечении железобетонной надолбы со дна реки глубиной в 5 м, если надолба имеет форму правильного тетраэдра с ребром 1 м, плотность железобетона 2500 кг/м^3 .

2 Найти работу, затраченную на выкачивание воды из сосуда, имеющего форму полуцилиндра, длина которого a , радиус r .

3 Водопроводная труба имеет диаметр 6 см.; один ее конец соединен с баком, в котором уровень воды на 100 см выше верхнего края трубы, а другой закрыт заслонкой. Найти полное давление на заслонку.

4 Найти величину давления воды на вертикальную стенку в форме полукруга, диаметр которого 6 м и находится на поверхности воды (рисунок 8. 1).

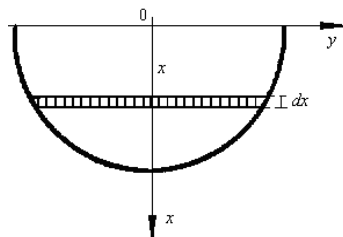


Рисунок 8. 1 – К задаче 4

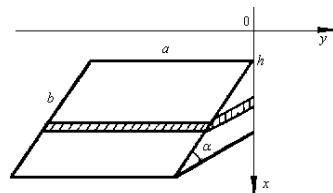


Рисунок 8. 2 – К задаче 6

5 Найти давление бензина, находящегося в цилиндрическом баке высотой $h = 3,5$ м и радиусом $r = 1,5$ м, на его стенки, если плотность бензина $\rho = 900 \text{ кг/м}^3$.

6 Какое давление испытывает прямоугольная пластинка длиной a и шириною b , $a > b$, если она наклонена к горизонту жидкости под углом α и ее большая сторона находится на глубине h (рисунок 8. 2).

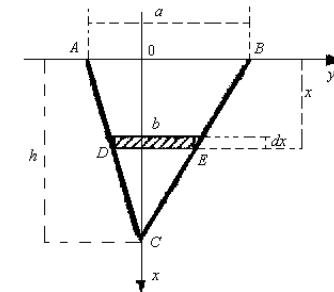


Рисунок 8. 4 – Геометрическая интерпретация примера 6

Из подобия треугольников CAB и CDE имеем

$$\frac{b}{a} = \frac{h-x}{h}.$$

Отсюда $b = \frac{a}{h}(h-x)$.

Следовательно, (для воды $\gamma = 1$).

$$dS = b dx = \frac{a}{h}(h-x)dx,$$

$$dP = x dS = \frac{ax}{h}(h-x)dx$$

Таким образом, сила давления воды на всю пластину равна

$$P = \int_0^h x dS = \frac{a}{h} \int_0^h x(h-x)dx = \frac{a}{h} \left(\frac{h^3}{2} - \frac{h^3}{3} \right) = \frac{ah^2}{6}.$$

7 Вычислить работу, которую нужно затратить, чтобы растянуть пружину на 10 см, если известно, что для удаления ее на 1 см необходимо приложить силу в 1 кН.

Решение. Согласно закону Гука, сила F , растягивающая пружину пропорциональна ее растяжению

$$F = kx,$$

где k – коэффициент пропорциональности, x – растяжение пружины (в метрах).

Так как по условию при $x = 0,01$ м сила $F = 1$ кН, то из равенства

$$1 = 0,01k,$$

получаем

$$k = 100, F = 100x.$$

примера 5

Тогда

$$dm = 2\pi r h \gamma dr, \quad 0 \leq r \leq R.$$

Из подобия треугольников OCD и OAB имеем

$$\frac{r}{R} = \frac{H-h}{H}.$$

Отсюда

$$h = H \left(1 - \frac{r}{R} \right).$$

Следовательно,

$$dm = 2\pi \gamma H \left(1 - \frac{r}{R} \right) r dr,$$

и элементарный момент инерции dI равен

$$dI = dm r^2 = 2\pi \gamma H \left(1 - \frac{r}{R} \right) r^3 dr.$$

Таким образом, момент инерции всего конуса есть

$$I = \int_0^R dI = \int_0^R 2\pi \gamma H \left(1 - \frac{r}{R} \right) r^3 dr = 2\pi \gamma H \left(\frac{R^4}{4} - \frac{R^4}{5} \right) = \frac{1}{10} \pi \gamma H R^4,$$

и кинетическая энергия конуса равна

$$K = \frac{1}{20} \pi \gamma H R^4 \omega^4.$$

6 Найти силу давления воды на вертикальную треугольную пластину с основанием a и высотой h , погруженную в воду вершиной вниз так, что основание находится на поверхности воды.

Решение. Согласно закону Паскаля сила давления P жидкости с удельным весом γ на площадку S при глубине погружения H равна

$$P = \gamma H S.$$

Введем систему координат (рисунок 8.4) Oxy и рассмотрим элементарную прямоугольную площадку, находящуюся на глубине x и имеющую основание b и высоту dx .

7 Найти момент инерции относительно оси Oy площади эллипса $x = a \cos t, y = b \sin t$.

8 Найти статические моменты и моменты инерции дуги астроида $x = a \cos^3 t, y = a \sin^3 t$, лежащей в первой четверти.

9 Найти координаты центра тяжести параболического сегмента, ограниченного линиями $y = 2x - x^2, y = 0$.

Примеры оформления решения

1 Найти статические моменты и моменты инерции относительно осей Ox и Oy дуги цепной линии $y = \operatorname{ch} x$ при $0 \leq x \leq 1$.

Решение. Имеем

$$y' = \operatorname{sh} x, \quad \sqrt{1+y'^2} = \sqrt{1+(\operatorname{sh} x)^2} = \operatorname{ch} x.$$

Тогда

$$M_x = \int_0^1 \operatorname{ch}^2 x dx = \frac{1}{2} \int_0^1 (1 + \operatorname{ch} 2x) dx = \frac{1}{2} \left(x + \frac{1}{2} \operatorname{sh} x \right) \Big|_0^1 = \frac{1}{4} (2 + \operatorname{sh} 2),$$

$$M_y = \int_0^1 x \operatorname{ch} x dx = \left[\begin{array}{l} u = x, dv = \operatorname{ch} x dx, \\ du = dx, v = \operatorname{sh} x \end{array} \right] = x \operatorname{sh} x \Big|_0^1 -$$

$$- \int_0^1 \operatorname{sh} dx = \operatorname{sh} 1 - \operatorname{ch} x \Big|_0^1 = \operatorname{sh} 1 - \operatorname{ch} 1 + 1,$$

$$I_x = \int_0^1 \operatorname{ch}^3 x dx = \int_0^1 (1 + \operatorname{sh}^2 x) \operatorname{ch} x dx = \left(\operatorname{sh} x + \frac{1}{3} \operatorname{sh}^3 x \right) \Big|_0^1 = \operatorname{sh} 1 + \frac{1}{3} \operatorname{sh}^3 1,$$

$$I_y = \int_0^1 x^2 \operatorname{ch} x dx = \left[\begin{array}{l} u = x^2, dv = \operatorname{ch} x dx, \\ du = 2x dx, v = \operatorname{sh} x \end{array} \right] = x^2 \operatorname{sh} x \Big|_0^1 - 2 \int_0^1 x \operatorname{sh} x dx =$$

$$= \left[\begin{array}{l} u = x, dv = \operatorname{sh} x dx, \\ du = dx, v = \operatorname{ch} x \end{array} \right] = \operatorname{sh} 1 - 2 \left(x \operatorname{ch} x \Big|_0^1 - \int_0^1 \operatorname{ch} x dx \right) =$$

$$= \operatorname{sh} 1 - 2 \operatorname{ch} 1 + 2 \operatorname{sh} 1 = 3 \operatorname{sh} 1 - 2 \operatorname{ch} 1.$$

2 Найти координаты центра масс дуги окружности

$$x = a \cos t, \quad y = a \sin t, \quad 0 \leq t \leq \frac{\pi}{2}.$$

Решение. Масса дуги окружности в первой четверти есть

$$M = \frac{\pi a}{2}.$$

Имеем

$$x' = -a \sin t, \quad y' = a \cos t,$$

$$\sqrt{x'^2 + y'^2} = \sqrt{a^2 \sin^2 t + a^2 \cos^2 t} = a.$$

Тогда

$$M_x = a^2 \int_0^{\frac{\pi}{2}} \cos t \, dt = a^2 \sin t \Big|_0^{\frac{\pi}{2}} = a^2,$$

$$M_y = a^2 \int_0^{\frac{\pi}{2}} \sin t \, dt = -a^2 \cos t \Big|_0^{\frac{\pi}{2}} = a^2.$$

Следовательно,

$$x_C = \frac{M_y}{M} = \frac{a^2}{\frac{\pi a}{2}} = \frac{2a}{\pi}, \quad y_C = \frac{M_x}{M} = \frac{a^2}{\frac{\pi a}{2}} = \frac{2a}{\pi}.$$

3 Скорость прямолинейного движения тела выражается формулой $v = 2t + 3t^2$ м/с. Требуется найти путь, пройденный телом за 5 секунд от начала движения.

Решение. Так как путь, пройденный телом со скоростью $v(t)$

за отрезок времени выражается интегралом $S = \int_{t_1}^{t_2} v(t) dt$,

то имеем

$$S = \int_0^5 (2t + 3t^2) dt = (t^2 + t^3) \Big|_0^5 = 150 \text{ (м)}.$$

4 Какую работу необходимо затратить, для того, чтобы тело массы m поднять с поверхности Земли, радиус которой R , на высоту h ? Чему равна работа, если тело удаляется в бесконечность?

Решение. Работа переменной силы $f(x)$, действующей вдоль оси Ox на отрезке $[a; b]$, выражается интегралом

$$A = \int_a^b f(x) dx.$$

Согласно закону всемирного тяготения сила F , действующая на тело массы m , равна

$$F = k \frac{mM}{r^2},$$

где M – масса земли, r – расстояние массы m от центра земли, k – гравитационная постоянная. Так как на поверхности Земли, т.е. при $r = R$, имеем $F = mg$, то можно записать

$$mg = k \frac{mM}{R^2}.$$

Отсюда получаем $kM = gR^2$. Тогда $F = mg \frac{R^2}{r^2}$.

Следовательно, искомая работа равна:

$$A = \int_R^{R+h} F dr = \int_R^{R+h} mgR^2 \frac{dr}{r^2} = mgR^2 \left(-\frac{1}{r} \right) \Big|_R^{R+h} = mgR \frac{h}{R+h}.$$

Отсюда при $h \rightarrow \infty$ имеем

$$\lim_{h \rightarrow \infty} A = mgR.$$

5 Вычислить кинетическую энергию однородного кругового конуса, вращающегося с угловой скоростью ω вокруг своей оси, если заданы радиус основания конуса R , высота H и плотность γ .

Решение. Кинетическая энергия тела, вращающегося вокруг некоторой оси с угловой скоростью ω , равна $\frac{1}{2} I \omega^2$, где I – момент инерции тела относительно оси вращения. Пусть dm – элементарная масса полого цилиндра высоты h с внутренним радиусом r и толщиной стенок dr (рисунок 8. 3)

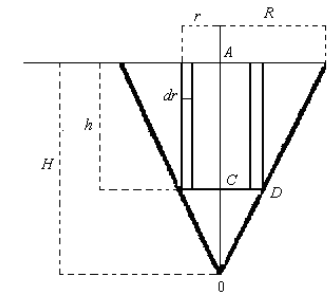


Рисунок 8. 3 – Геометрическая интерпретация